

**BỒI DƯỠNG NĂNG LỰC TOÁN**  
**HỆ THỐNG GIÁO DỤC TRỰC TUYẾN VINASTUDY.VN**  
**ĐỀ THI GIỮA HỌC KÌ I - LỚP 1**  
**ĐỀ SỐ 1**

[www.vinastudy.vn](http://www.vinastudy.vn)

**Bài 1:** Điền số thích hợp vào chỗ trống :

$2 + \dots = 3$        $\dots + 3 = 4$        $\dots + 2 = 5$        $\dots + 0 = 5$

**Bài 2:** Tính:

$1 + 3 = \dots$                    $3 + 2 = \dots$        $4 + 1 = \dots$   
 $1 + 3 + 1 = \dots$                $3 + 1 + 1 = \dots$        $2 + 0 + 1 = \dots$

**Bài 3:** Điền dấu "> ; < ; ="

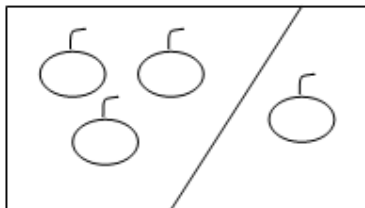
$2 + 3 \dots 5$                    $2 + 2 \dots 1 + 2$                    $1 + 4 \dots 4 + 1$   
 $2 + 2 \dots 5$                    $2 + 1 \dots 1 + 2$                    $5 + 0 \dots 2 + 3$

**Bài 4:** Số ?

$1 + \dots = 1$                    $1 + \dots = 2$   
 $\dots + 3 = 3$                    $2 + \dots = 2$

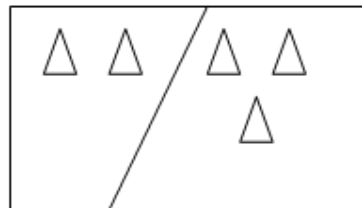
**Bài 5:** Viết phép tính thích hợp

a.



--	--	--	--

b.



--	--	--	--

**Bài 6:** Đúng ghi Đ, sai ghi S vào ô trống:

Hình bên có:

- 4 hình vuông
- 5 hình vuông



HỆ THỐNG GIÁO DỤC TRỰC TUYẾN VINASTUDY.VN

**BỒI DƯỠNG NĂNG LỰC TOÁN**  
**HỆ THỐNG GIÁO DỤC TRỰC TUYẾN VINASTUDY.VN**

**ĐỀ THI GIỮA HỌC KÌ I - LỚP 1**

**ĐỀ SỐ 2**

www.vinastudy.vn

**Bài 1.** Nối ô trống với các số thích hợp:

a)  $2 < \square$

b)  $5 > \square$



**Bài 2.** Điền dấu ( $>$ ,  $<$ ,  $=$ ) thích hợp vào chỗ chấm:

▪  $3 \dots 5$

▪  $6 \dots 4$

▪  $2 \dots 2$

▪  $7 \dots 9$

▪  $1 + 3 \dots 2 + 3$


▪  $2 + 1 \dots 1 + 1$

▪  $4 + 0 \dots 2 + 2$

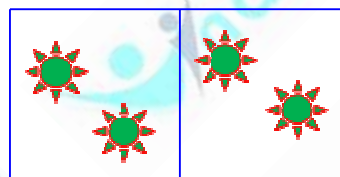
▪  $1 + 4 \dots 2 + 3$

**Bài 3.** Nhìn hình, điền số và dấu ( $>$ ,  $<$ ,  $=$ ) thích hợp vào ô trống:

a)



b)



**Bài 4.** Nối ghép tính với kết quả đúng:

$2 + 1$

$3 + 2$

$1 + 3$

$2 + 2$



**Bài 5.** Tính:

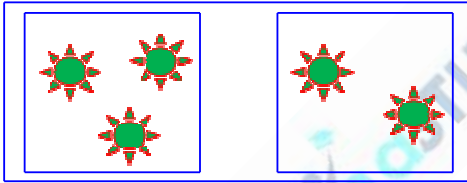
$$\begin{array}{r} 1 \\ + 1 \\ \hline \dots \end{array}$$

$$\begin{array}{r} 2 \\ + 1 \\ \hline \dots \end{array}$$

$$\begin{array}{r} 3 \\ + 2 \\ \hline \dots \end{array}$$

$$\begin{array}{r} 2 \\ + 2 \\ \hline \dots \end{array}$$

Bài 6. Viết phép tính thích hợp vào ô trống bên phải:



--	--	--	--	--

HỆ THỐNG GIÁO DỤC TRỰC TUYẾN VINASTUDY.VN


**BỒI DƯỠNG NĂNG LỰC TOÁN**  
**HỆ THỐNG GIÁO DỤC TRỰC TUYẾN VINASTUDY.VN**

**ĐỀ THI GIỮA HỌC KÌ I - LỚP 1**

**ĐỀ SỐ 3**

[www.vinastudy.vn](http://www.vinastudy.vn)

**Bài 1.** Vẽ thêm hình tam giác để hình B có số hình tam giác bằng hình A:



Hình A



Hình B

**Bài 2.** Điền số và dấu (>, <, =) thích hợp vào ô trống:

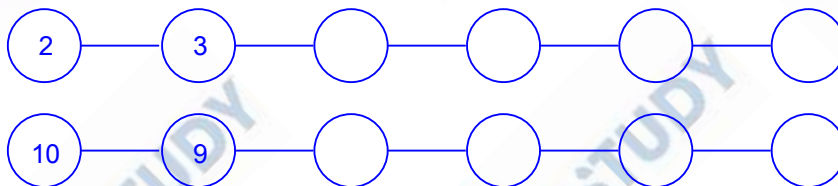
a)



b)



**Bài 3.** Viết chữ số thích hợp vào ô trống:



**Bài 4.** Tính:

a)

$$\begin{array}{r} + 2 \\ + 1 \\ \hline \dots\dots \end{array}$$

$$\begin{array}{r} + 1 \\ + 2 \\ \hline \dots\dots \end{array}$$

$$\begin{array}{r} + 1 \\ + 1 \\ \hline \dots\dots \end{array}$$

$$\begin{array}{r} + 2 \\ + 3 \\ \hline \dots\dots \end{array}$$

b)  $\square 1 + 4 = \dots \square 3 + 2 = \dots \square 2 + 2 = \dots \square 4 + 1 = \dots$

**Bài 5.** Nối phép tính với số thích hợp:

1 + 2

2 + 0

1 + 4

3 + 1

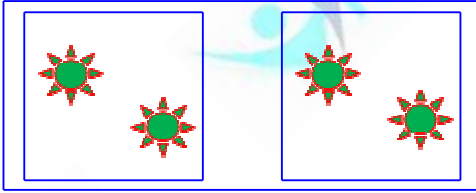
2

3

4

5

Bài 6. Viết phép tính thích hợp vào ô trống:



--	--	--	--	--

**BỒI DƯỠNG NĂNG LỰC TOÁN**  
**HỆ THỐNG GIÁO DỤC TRỰC TUYẾN VINASTUDY.VN**

**ĐỀ THI GIỮA HỌC KÌ I - LỚP 1**

**ĐỀ SỐ 4**

\_\_\_www.vinastudy.vn\_\_\_

**Bài 1: Viết số thích hợp vào ô trống:**

0			3			6		8		
	9				5				1	

**Bài 2: Số?**

 □	 □	 □ □ □	 □
-------	-------	-----------	-------

**Bài 3:**

<div style="border: 1px solid black; padding: 5px; display: inline-block;">                 &gt; ? &lt; =             </div>	10 □ 4	5 □ 9	10 □ 10
	3 □ 5	5 □ 1	7 □ 2
	1 □ 8	8 □ 9	2 + 2 □ 1 + 4

**Bài 4:** □ ?

2 + 2 = □                      3 + 2 = □                      2 = □ + 1

$4 - 2 = \square$

$\square + 2 = 5$

$3 = 2 + \square$

**Bài 5: Tính:**

$$\begin{array}{r} 2 \\ + \\ 3 \\ \hline \end{array}$$

.....

$$\begin{array}{r} 4 \\ + \\ 0 \\ \hline \end{array}$$

.....

$$\begin{array}{r} 3 \\ + \\ 1 \\ \hline \end{array}$$


.....

$$\begin{array}{r} 3 \\ + \\ 2 \\ \hline \end{array}$$

.....

**Bài 6: Hình vẽ bên có mấy hình tam giác ?**

Có ..... hình tam giác.





**BỒI DƯỠNG NĂNG LỰC TOÁN**  
**HỆ THỐNG GIÁO DỤC TRỰC TUYẾN VINASTUDY.VN**

**ĐỀ THI GIỮA HỌC KÌ I - LỚP 1**

**ĐỀ SỐ 5**

[www.vinastudy.vn](http://www.vinastudy.vn)

**Câu 1:**

a. Viết các số từ 0 đến 10:.....

b. Viết theo mẫu:

2: hai

3:.....

7:.....

**Câu 2:** Điền dấu thích hợp vào ô trống:

$\begin{matrix} > \\ < \\ = \end{matrix}$	?	1 <input type="text"/> 3	4 <input type="text"/> 2	3 <input type="text"/> 2 + 1
		8 <input type="text"/> 0	7 <input type="text"/> 9	4 + 1 <input type="text"/> 1 + 4

**Câu 3:** Tính:

a.  $1 + 1 = \dots\dots$

$2 + 0 = \dots\dots$

$3 + 2 = \dots\dots$

$1 + 2 = \dots\dots$

b.  $2 + 1 + 1 = \dots\dots$

$3 + 0 + 2 = \dots\dots$

**Câu 4:** Số?

<div style="position: absolute; top: 10px; left: 10px;">● ●</div>	<div style="position: absolute; top: 10px; left: 10px;">● ● ● ●</div>	<div style="position: absolute; top: 10px; left: 10px;">● ● ● ● ● ●</div>

**Câu 5:** Khoanh vào số lớn nhất

a. 2      5      7      9

b. 4      1      6      8

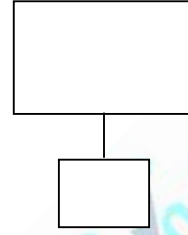

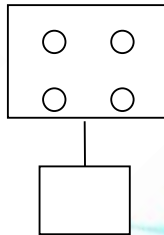
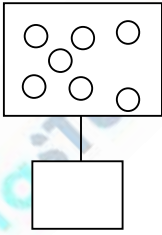
**BỒI DƯỠNG NĂNG LỰC TOÁN**  
**HỆ THỐNG GIÁO DỤC TRỰC TUYẾN VINASTUDY.VN**

**ĐỀ THI GIỮA HỌC KÌ I - LỚP 1**

**ĐỀ SỐ 6**

[www.vinastudy.vn](http://www.vinastudy.vn)

**Câu 1: Số?**



**Câu 2: Số?**

1					
---	--	--	--	--	--

0	2			
---	---	--	--	--

10	9							
----	---	--	--	--	--	--	--	--

**Câu 3:**

>
<
=

3  4 ; 8  9 ; 5  10 ; 9  9

3 + 2  5      7  2 + 2 ;

Câu 4: Tính

$$\begin{array}{r} 4 \\ + \\ 1 \\ \hline \end{array}$$

.....

$$\begin{array}{r} 3 \\ + \\ 2 \\ \hline \end{array}$$

.....

$$\begin{array}{r} 5 \\ + \\ 0 \\ \hline \end{array}$$

.....

$$\begin{array}{r} 2 \\ + \\ 2 \\ \hline \end{array}$$

.....

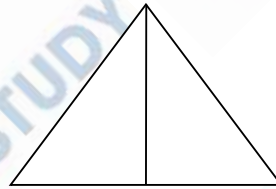
$$\begin{array}{r} 2 \\ + \\ 3 \\ \hline \end{array}$$

.....

Câu 5: Tính

$$3 + 2 =$$
$$5 + 0 =$$
$$2 + 2 + 1 =$$
$$4 + 1 =$$
$$2 + 2$$
$$3 + 2 + 0 =$$

Câu 6: Hình dưới có...hình tam giác.



HỆ THỐNG GIÁO DỤC TRỰC TUYẾN VINASTUDY.VN

**BỒI DƯỠNG NĂNG LỰC TOÁN**  
**HỆ THỐNG GIÁO DỤC TRỰC TUYẾN VINASTUDY.VN**

**ĐỀ THI GIỮA HỌC KÌ I - LỚP 1**

**ĐỀ SỐ 7**

www.vinastudy.vn

**Bài 1:**

a) Viết số

0		2		4	5		7	8		10
---	--	---	--	---	---	--	---	---	--	----

b) Đọc số theo mẫu : 3: **ba** ; 7:..... ; 10:.....

**Bài 2:**

a) Tính:  $2 + 1 = \dots$        $2 + 3 = \dots$        $2 + 2 = \dots$

$1 + 2 = \dots$        $5 + 0 = \dots$        $3 + 0 = \dots$

b) Tính:

$\begin{array}{r} 3 \\ + \\ 1 \\ \hline \dots \end{array}$	$\begin{array}{r} 2 \\ + \\ 3 \\ \hline \dots \end{array}$	$\begin{array}{r} 1 \\ + \\ 2 \\ \hline \dots \end{array}$	$\begin{array}{r} 0 \\ + \\ 4 \\ \hline \dots \end{array}$
--	--	--	--

**Bài 3:** Điền (>, <, =) ?


4.....5

2 + 2.....4


3.....2

3 + 2.....3

Bài 4: Viết phép tính thích hợp.



Bài 5: Viết số: ?



Có  hình tròn ;

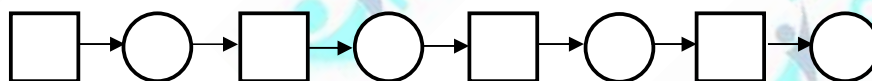
có  hình vuông ;

có  hình tam giác

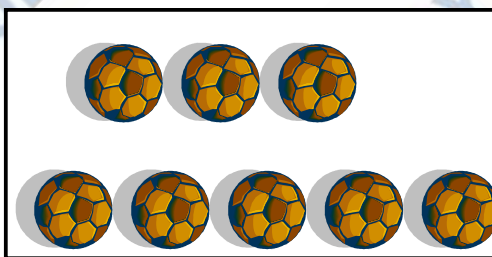


**BỒI DƯỠNG NĂNG LỰC TOÁN**  
**HỆ THỐNG GIÁO DỤC TRỰC TUYẾN VINASTUDY.VN**  
**ĐỀ THI GIỮA HỌC KÌ I - LỚP 1**  
**ĐỀ SỐ 8**

www.vinastudy.vn

**Bài 1.** Viết các số 7; 2; 5; 8; 3; 4; 6; 9 theo thứ tự bé dần:



**Bài 2.** Số ?



.....

.....

.....

**Bài 3.** Viết các số 7, 1, 5, 9, 3 theo thứ tự từ lớn dần



**Bài 4.** Tính:

1	2	3	2
+	+	+	+
2	0	1	2
—	—	—	—

.....

.....

.....

.....

Bài 5.

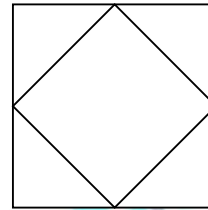
>	3.....2	6.....6	4....5
<	?		
=	10....7	1 + 2.....3	4.....1 + 2

Bài 6.

Hình bên có:

Có.....hình tam giác

Có.....hình vuông

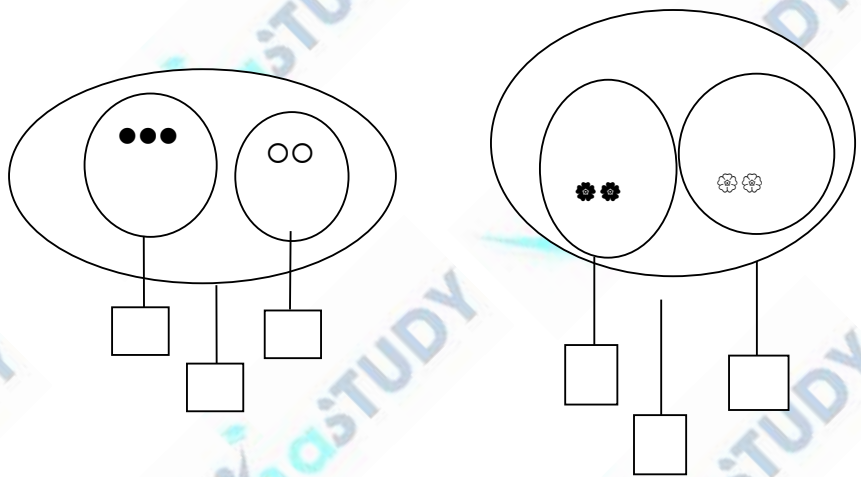


HỆ THỐNG GIÁO DỤC TRỰC TUYẾN VINASTUDY.VN

**BỒI DƯỠNG NĂNG LỰC TOÁN**  
**HỆ THỐNG GIÁO DỤC TRỰC TUYẾN VINASTUDY.VN**  
**ĐỀ THI GIỮA HỌC KÌ I - LỚP 1**  
**ĐỀ SỐ 9**

www.vinastudy.vn

**Bài 1: Số?**



**Bài 2: Viết các số 0 ; 7 ; 10 ; 4.**

a) Theo thứ tự từ **bé** đến **lớn**:.....

b) Theo thứ tự từ **lớn** đến **bé**:.....

**Bài 3: Tính:**

a)

$1 + 3 = \dots\dots$

$3 + 1 = \dots\dots$

$3 + 2 = \dots\dots$

$1 + 1 + 1 = \dots\dots$

$2 + 1 + 1 = \dots\dots$

$1 + 0 + 2 = \dots\dots$

b)

$$\begin{array}{r} 1 \\ + 2 \\ \hline \dots\dots \end{array}$$

$$\begin{array}{r} 3 \\ + 2 \\ \hline \dots\dots \end{array}$$

$$\begin{array}{r} 2 \\ + 2 \\ \hline \dots\dots \end{array}$$

$$\begin{array}{r} 1 \\ + 0 \\ \hline \dots\dots \end{array}$$



**Bài 4:**

>
<
=

?

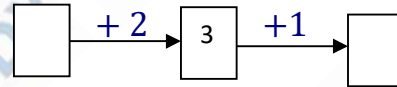
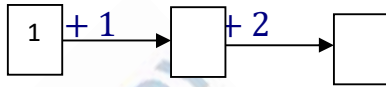
$2 \square 4$

$2 + 2 \square 3$

$2 + 1 \square 1 + 2$

$3 + 2 \square 5$

**Bài 5: Số?**




HỆ THỐNG GIÁO DỤC TRỰC TUYẾN VINASTUDY.VN

**BỒI DƯỠNG NĂNG LỰC TOÁN**  
**HỆ THỐNG GIÁO DỤC TRỰC TUYẾN VINASTUDY.VN**  
**ĐỀ THI GIỮA HỌC KÌ I - LỚP 1**  
**ĐỀ SỐ 10**

[www.vinastudy.vn](http://www.vinastudy.vn)

**Bài 1: Số?**



3                  .....                  .....                  .....                  .....

**Bài 2: Tính:**

a) 
$$\begin{array}{r} 2 \\ + 1 \\ \hline \dots \end{array}$$

$$\begin{array}{r} 3 \\ + 2 \\ \hline \dots \end{array}$$

$$\begin{array}{r} 2 \\ + 2 \\ \hline \dots \end{array}$$

$$\begin{array}{r} 3 \\ + 1 \\ \hline \dots \end{array}$$

b)  $1 + 2 + 1 = \dots\dots\dots$                                    $3 + 0 - 1 = \dots\dots\dots$

**Bài 3: Số?**

$1 + \dots = 4$                                    $3 - \dots = 1$                                    $\dots + 4 = 5$


**Bài 4: > < = ?**

a)  $0 \dots 1$                    $7 \dots 7$                    $8 \dots 5$                    $3 \dots 9$


b)  $2 \dots 0 + 4$                    $2 + 2 \dots 3$                    $3 - 1 \dots 1 + 1$

**Bài 5: Hình bên :**

Có ..... hình vuông.



**Bài 6:** Viết phép tính thích hợp:



HỆ THỐNG GIÁO DỤC TRỰC TUYẾN VINASTUDY.VN