

**BỒI DƯỠNG NĂNG LỰC TOÁN**  
**HỆ THỐNG GIÁO DỤC TRỰC TUYẾN VINASTUDY.VN**  
**ÔN TẬP HỌC KÌ I - LỚP 3**  
**ĐỀ SỐ 1**

[www.vinastudy.vn](http://www.vinastudy.vn)

**I. PHẦN TRẮC NGHIỆM (3 điểm)**

**Câu 1 (2 điểm).** Nối phép tính và biểu thức với giá trị của nó:

$$45 + 29$$

59

$$79 - 20$$

74

$$30 \times 3 : 3$$

21

$$(97 - 13) : 4$$

30

**Câu 2 (1 điểm).** Khoanh vào chữ cái trước câu trả lời đúng:

a) Cạnh của hình vuông là 6 cm. Vậy chu vi hình vuông là..... cm

A. 10

B. 12

C. 24

b) Số thích hợp cần điền vào chỗ chấm để  $3\text{m } 2\text{cm} = \dots\dots\text{ cm}$  là:

A. 32

B. 302

C. 320

**II. PHẦN TỰ LUẬN (7 điểm)****Câu 1 (2 điểm).** Đặt tính rồi tính:

a)  $71 + 444$

b)  $206 - 162$

c)  $246 : 3$

d)  $135 \times 5$

.....

.....

.....

.....

.....

**Câu 3 (2 điểm).** Tìm x:

a)  $x : 6 = 121$

b)  $7 \times x = 847 - 77$

.....

.....

**Câu 4 (2 điểm).** Một tấm vải dài 68m, người ta cắt lấy 4 khúc, mỗi khúc dài 6m. Hỏi tấm vải còn lại dài bao nhiêu mét?**Bài giải**

.....

.....

.....

.....

.....

.....

**Câu 5 (1 điểm).** Tìm số bị chia trong phép chia cho 8, biết thương là 4 và số dư là số dư lớn nhất có thể có được.**Bài giải**

.....

.....

Giáo viên: Nguyễn Thành Long

**BỒI DƯỠNG NĂNG LỰC TOÁN**  
**HỆ THỐNG GIÁO DỤC TRỰC TUYẾN VINASTUDY.VN**  
**ÔN TẬP HỌC KÌ I – LỚP 3**  
**ĐỀ SỐ 2**

[www.vinastudy.vn](http://www.vinastudy.vn)

**PHẦN I: Hãy khoanh vào chữ đặt trước câu trả lời đúng**

1) Phép tính  $32 \times 6$  có kết quả là: (0.5 điểm)

- A. 182      B. 192      C. 129      D. 198

2) Số dư trong phép chia  $46 : 6$  là : ( 0,5 điểm)

- A. 1      B. 2      C. 3      D. 4

3) Mỗi giờ có 60 phút vậy  $\frac{1}{3}$  giờ có : (0,5 điểm)

- A. 15 phút      B. 25 phút      C. 20 phút      D. 30 phút

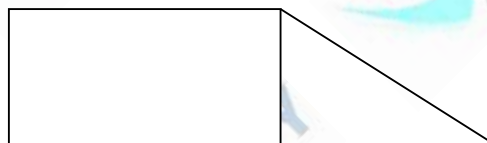
4) Biểu thức  $36 : 4 \times 3$  có giá trị là : (0,5 điểm)

- A. 27      B. 28      C. 32      D. 34

5) Hình bên có: (0.5 điểm)

A. 3 góc vuông      B. 4 góc vuông

C. 5 góc vuông      D. 6 góc vuông



**PHẦN II: Tự luận**

**Bài 1: Đặt tính rồi tính: (2 điểm)**

a)  $214 \times 4$

b)  $319 \times 3$

c)  $450 : 6$

d)  $905 : 5$

.....

.....

.....

.....  
**Bài 2: Đổi đơn vị đo:** (1 điểm)

a)  $25 \text{ dm } 7 \text{ cm} = \dots\dots\dots \text{ cm}$

b)  $8 \text{ m } 32 \text{ cm} = \dots\dots\dots \text{ cm}$

$4 \text{ m } 3 \text{ dm} = \dots\dots \text{ dm}$

$4 \text{ kg} = \dots\dots\dots \text{ g}$

$5 \text{ hm } 2 \text{ dam} = \dots\dots \text{ m}$

$2 \text{ kg } 6 \text{ g} = \dots\dots\dots \text{ g}$

**Bài 3: Tìm  $x$ :** (1 điểm)

a)  $876 : x = 4$

b)  $x : 6 = 108$   
.....  
.....

**Bài 4:** (2 điểm) Một cửa hàng có 56kg đường, đã bán được  $\frac{1}{8}$  số đường đó. Hỏi cửa hàng còn lại bao nhiêu ki-lô gam đường ?

Bài giải:  
.....  
.....  
.....  
.....  
.....  
.....  
.....

**Bài 5:** (1,5 điểm) Một cửa hàng ngày thứ nhất bán được 6 kg gạo. Ngày thứ hai bán được gấp đôi số gạo ngày thứ nhất. Hỏi cả hai ngày cửa hàng bán được bao nhiêu kg gạo?  
.....  
.....  
.....  
.....

**BỒI DƯỠNG NĂNG LỰC TOÁN**  
**HỆ THỐNG GIÁO DỤC TRỰC TUYẾN VINASTUDY.VN**  
**ÔN TẬP HỌC KÌ I – LỚP 3**  
**ĐỀ SỐ 3**

[www.vinastudy.vn](http://www.vinastudy.vn)

**I. PHẦN TỰ LUẬN**

*Khoanh vào chữ đặt trước kết quả đúng ( 2 điểm).*

**Câu 1 :** Kết quả của phép nhân:  $117 \times 8$  là:

- A. 936 ;      B. 639;      C. 963;      D. 886.

**Câu 2 :** Kết quả của phép chia :  $84 : 4$  là;

- A. 14;      B. 21;      C. 8;      D. 12

**Câu 3 :** Giá trị của biểu thức:  $765 - 84$  là:

- A. 781;      B. 681;      C. 921;      D. 671.

**Câu 4 :** Giá trị của biểu thức:  $81 : 9 + 10$  là:

- A. 39;      B. 19;      C. 91;      D. 20;

**II. PHẦN TỰ LUẬN**

**BÀI 1:** Đặt tính rồi tính: (2 điểm)

a)  $486 + 303$

b)  $670 - 261$

c)  $106 \times 9$

d)  $872 : 4$

.....

.....

.....

.....

.....

**Bài 2 :** Tìm y: ( 2 điểm)

a)  $72 : y = 8$

b)  $y + 158 = 261$

c)  $y : 5 = 141$

d)  $5 \times y = 375$

**Bài 3 :** (1,5 điểm).

Năm nay ông 72 tuổi, cháu 9 tuổi. Hỏi tuổi cháu bằng một phần mấy tuổi ông?

Bài giải :

**Bài 4 :** ( 2,5 điểm).

Tổ một trồng được 25 cây, tổ hai trồng được gấp 3 lần tổ một. Hỏi cả hai tổ trồng được bao nhiêu cây?

Bài giải :

**BỒI DƯỠNG NĂNG LỰC TOÁN**  
**HỆ THỐNG GIÁO DỤC TRỰC TUYẾN VINASTUDY.VN**  
**ÔN TẬP HỌC KÌ I - LỚP 3**  
**ĐỀ SỐ 4**

[www.vinastudy.vn](http://www.vinastudy.vn)

**PHẦN I : Khoanh tròn vào chữ cái trước câu trả lời đúng hoặc làm theo yêu cầu. (4 điểm)**

1. Gấp 7 lít lên 8 lần thì được:

- a. 15 lít      b. 49 lít      c. 56 lít      d. 65 lít

2.  $7\text{m } 4\text{cm} = \dots\dots\dots \text{cm}$ . Số thích hợp điền vào chỗ trống là:

- a. 74cm      b. 740cm      c. 407cm      d. 704cm

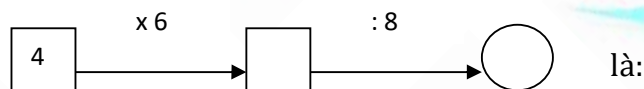
3. Tổng của 16 và 14 rồi nhân với 4 là:

- a. 30      b. 34      c. 72      d. 120

4. Một cái ao hình vuông có chu vi là 24 m thì cạnh của hình vuông đó là:

- a. 4m      b. 6m      c. 8m      d. 12cm

5. Số thích hợp viết vào chỗ trống trong phép tính



- a. 24 và 3      b. 24 và 4      c. 24 và 6      d. 24 và 8

6.  $\frac{1}{3}$  của 24 kg là:

- a. 1kg      b. 3 kg      c. 6 kg      d. 8 kg

7. Giá trị của chữ số 3 trong số 132 là:

- a. 300      b. 30      c. 3      d. Cả a, b, c đều sai

8. Số dư trong phép chia  $27 : 5$  là :

- a. 1      b. 2      c. 3      d. 4

## PHẦN II : Tự luận

## 1. Đặt tính rồi tính. (2 điểm)

a)  $576 + 185$

b)  $720 - 342$

c)  $75 \times 7$

d)  $786 : 6$

.....

.....

.....

.....

.....

## 2. Tìm x: (2 điểm)

a)  $x + 23 = 81$

b)  $100 : x = 4$

.....

.....

3. Một cửa hàng có 104kg gạo, cửa hàng đã bán đi  $\frac{1}{4}$  kg gạo đó. Hỏi cửa hàng còn lại bao nhiêu kilôgam gạo? (2 điểm)

Bài giải:

.....

.....

.....

.....

.....



**BỒI DƯỠNG NĂNG LỰC TOÁN**  
**HỆ THỐNG GIÁO DỤC TRỰC TUYẾN VINASTUDY.VN**  
**ÔN TẬP HỌC KÌ I – LỚP 3**  
**ĐỀ SỐ 5**

[www.vinastudy.vn](http://www.vinastudy.vn)

**Bài 1. Tính nhẩm:**

- a)  $4 \times 5 = \dots\dots\dots$ ;    b)  $7 \times 8 = \dots\dots\dots$ ;    c)  $45 : 9 = \dots\dots\dots$ ;    d)  $64 : 8 = \dots\dots\dots$ ;

**Bài 2. Tìm số lớn nhất, bé nhất trong các số sau: 375, 421, 573, 241, 735, 142**

- a) Số lớn nhất là số: .....    b) Số bé nhất là số : .....

**Bài 3. Viết vào ô trống (theo mẫu) :**

Cạnh hình vuông	8cm	12cm	31cm
Chu vi hình vuông	$8 \times 4 = 32$ (cm)		

**Bài 4. Đúng ghi Đ, sai ghi S vào ô trống:**

- a) Giá trị của biểu thức  $288 + 24 : 6$  là 294
- b) Giá trị của biểu thức  $138 \times (174 - 168)$  là 826

**Bài 5.**

>  
<  
=?

- a) 6m 3cm ..... 7m                      b) 5m 6cm ..... 5m
- c) 6m 3cm ..... 630cm                  d) 5m 6cm ..... 506cm

**Bài 6. Đặt tính rồi tính:**

- a)  $213 \times 3$                       b)  $208 \times 4$                       c)  $684 : 6$                       d)  $630 : 9$

.....

.....

.....

.....

Bài 7. Tính :

a)  $163g + 28g = \dots\dots\dots ;$

b)  $96g : 3 = \dots\dots\dots ;$

Bài 8. Một cửa hàng có 36 máy bơm, người ta đã bán  $\frac{1}{6}$  số máy bơm đó. Hỏi cửa hàng còn lại bao nhiêu máy bơm?

Bài giải :

.....  
.....  
.....  
.....  
.....

Bài 9. Tính chiều rộng hình chữ nhật, biết nửa chu vi hình chữ nhật đó là 60m và chiều dài là 40m ?

Bài giải :

.....  
.....  
.....  
.....  
.....

**BỒI DƯỠNG NĂNG LỰC TOÁN**  
**HỆ THỐNG GIÁO DỤC TRỰC TUYẾN VINASTUDY.VN**  
**ÔN TẬP HỌC KÌ I – LỚP 3**  
**ĐỀ SỐ 6**

[www.vinastudy.vn](http://www.vinastudy.vn)

**I/ Phần trắc nghiệm: ( 3 điểm)**

*Khoanh vào chữ cái đặt trước câu trả lời đúng*

**Bài 1:** Số lớn nhất có hai chữ số là :

- A. 10                      B. 90                      C. 89                      D. 99

**Bài 2:** Năm 2010 có 365 ngày, 1 tuần lễ có 7 ngày. Vậy năm 2010 có:

- A. 52 tuần lễ                      B. 5 tuần lễ và 15 ngày  
C. 52 tuần lễ và 1 ngày                      D. 52 tuần lễ và 15 ngày

**Bài 3:** Một hình vuông có chu vi là 36m. Cạnh của hình vuông đó là:

- A. 18m                      B. 12m                      C. 8m                      D. 9m

**Bài 4:** Cha 45 tuổi ,con 9 tuổi thì tuổi con bằng một phần mấy tuổi cha?

- A.  $\frac{1}{5}$                       B.  $\frac{1}{6}$                       C.  $\frac{1}{9}$                       D.  $\frac{1}{45}$

**Bài 5:** Viết tiếp vào chỗ chấm : 16 , 22 , 28 , ..., ..... là:

- A. 34,40                      B. 35,41                      C. 35,40                      D.36, 42

**Bài 6 :** Một số chia cho 8 được thương là 6 và số dư là 4 . Số đó là.

- A. 51                      B. 52                      C. 53                      D. 54

**II/ Phần tự luận:( 7 điểm)**

**Bài 1:( 2 điểm)** Đặt tính rồi tính:

a)  $276 + 319$

b)  $756 - 392$

c)  $208 \times 3$

d)  $536 : 8$

Bài 2: ( 1 điểm) Tìm y :

a)  $y : 7 = 9$

b)  $5 \times y = 85$

Bài 3:(1 điểm) Tính giá trị của biểu thức :

a)  $169 - 24 : 2$

b)  $123 \times ( 83 - 80 )$

Bài 4:(1điểm) Viết số thích hợp vào chỗ có dấu chấm.

a)  $\frac{1}{6}$  giờ = .....phút

b)  $5\text{m } 8\text{dm} = \text{.....dm}$

Bài 5:(2 điểm) Hải có 24 viên bi, Minh có số bi bằng  $\frac{1}{4}$  số bi của Hải . Hỏi Hải có nhiều hơn Minh bao nhiêu viên bi?

Bài giải :

**BỒI DƯỠNG NĂNG LỰC TOÁN**  
**HỆ THỐNG GIÁO DỤC TRỰC TUYẾN VINASTUDY.VN**  
**ÔN TẬP HỌC KÌ I – LỚP 3**  
**ĐỀ SỐ 7**

[www.vinastudy.vn](http://www.vinastudy.vn)

**Câu 1.** Đặt tính rồi tính (2 điểm):

a)  $128 + 321$

b)  $942 - 58$

c)  $105 \times 7$

d)  $852 : 6$

**Câu 2.** Tính giá trị của biểu thức (1,5 điểm):

a)  $456 - 34 + 56$

b)  $84 + 645 : 5$

c)  $175 - (104 : 8)$

**Câu 3.** (2 điểm) Có 57 người cần qua sông. Mỗi chiếc thuyền chỉ chở được nhiều nhất là 7 người (không kể lái thuyền). Hỏi cần ít nhất bao nhiêu thuyền để chở một lượt hết số người đó?

Bài giải:

**Câu 4.** (1 điểm) Có 432 cây ngô được trồng đều trên 4 luống, mỗi luống có 2 hàng. Hỏi mỗi hàng có bao nhiêu cây ngô?

Bài giải:

.....

.....

.....

.....

.....

**Câu 5.** (0,5 điểm) Tính nhanh:

$$(8 \times 7 - 16 - 5 \times 8) \times (1 + 2 + 3 + 4 + 6 + 7 + 8 + 9)$$

.....

.....

.....

.....

**BỒI DƯỠNG NĂNG LỰC TOÁN**  
**HỆ THỐNG GIÁO DỤC TRỰC TUYẾN VINASTUDY.VN**  
**ÔN TẬP HỌC KÌ I – LỚP 3**  
**ĐỀ SỐ 8**

[www.vinastudy.vn](http://www.vinastudy.vn)

**Câu 1.** Đặt tính rồi tính (2 điểm):

a)  $321 + 83$

b)  $634 - 307$

c)  $102 \times 6$

d)  $764 : 4$

.....

.....

.....

.....

.....

**Câu 2.** Tính giá trị của biểu thức (3 điểm):

a)  $450 - 45 : 9$

b)  $34 \times (56 : 8)$

c)  $471 + 83 - 71$

.....

.....

.....

**Câu 3.** (2 điểm) Thùng thứ nhất đựng 123 lít dầu, thùng thứ hai đựng bằng  $\frac{1}{3}$  thùng thứ nhất. Hỏi cả hai thùng đựng bao nhiêu lít dầu?

Bài giải:

.....

.....

.....

.....

.....

**Câu 4.** ( 2 điểm) Khối 3 của một trường Tiểu học có 72 học sinh được phân đều thành 3 lớp. Mỗi lớp được chia đều thành 3 tổ. Hỏi mỗi tổ có bao nhiêu học sinh?

*Bài giải:*

.....  
.....  
.....  
.....

**Câu 5.** (1 điểm) Tính nhanh:

$$1 + 3 + 5 + 7 + 9 + 11 + 13 + 15 + 17 + 19$$

.....  
.....  
.....  
.....



**BỒI DƯỠNG NĂNG LỰC TOÁN**  
**HỆ THỐNG GIÁO DỤC TRỰC TUYẾN VINASTUDY.VN**  
**ÔN TẬP HỌC KÌ I – LỚP 3**  
**ĐỀ SỐ 9**

[www.vinastudy.vn](http://www.vinastudy.vn)

**Phần I:** (3 điểm) *Khoanh vào chữ đứng trước câu trả lời đúng.*

**Câu 1:** 1kg bằng:

- A. 1000g      B. 100g      C. 10000g      D. 10g

**Câu 2:**  $\frac{1}{6}$  của 1 giờ bằng bao nhiêu phút?

- A. 6 phút      B. 10 phút      C. 15 phút      D. 20 phút

**Câu 3:** Số bé là 6, số lớn là 36. Số bé bằng một phần mấy số lớn:

- A.  $\frac{1}{3}$       B.  $\frac{1}{4}$       C.  $\frac{1}{5}$       D.  $\frac{1}{6}$

**Câu 4:** Chu vi hình vuông có cạnh 5 cm là:

- A. 5 cm      B. 10 cm      C. 20 cm      D. 15 cm

**Phần II.** (7 điểm) **Tự luận**

**Câu 1:** Đặt tính rồi tính.

a)  $54 \times 3$

b)  $309 \times 2$

c)  $75 : 5$

d)  $845 : 7$

Câu 2: Tính giá trị của biểu thức.

a)  $42 + 24 : 8$

b)  $71 - 13 \times 4$

.....  
.....

c)  $28 \times 3 : 7$

d)  $139 - (45 + 25)$

.....  
.....

Câu 3: Một hình chữ nhật có chiều rộng 8m và chiều dài gấp 3 lần chiều rộng . Tính chu vi của hình chữ nhật đó ?

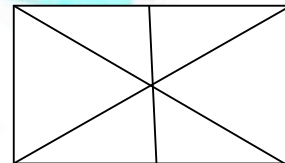
Bài giải:

.....  
.....  
.....  
.....  
.....

Câu 4: Hình bên có bao nhiêu tam giác, bao nhiêu tứ giác?

- Có .....tam giác.

- Có ..... tứ giác.



**BỒI DƯỠNG NĂNG LỰC TOÁN**  
**HỆ THỐNG GIÁO DỤC TRỰC TUYẾN VINASTUDY.VN**  
**ÔN TẬP HỌC KÌ I – LỚP 3**  
**ĐỀ SỐ 10**

[www.vinastudy.vn](http://www.vinastudy.vn)

**Bài 1:** Mỗi bài tập dưới đây có các câu trả lời A, B, C, D. Hãy khoanh vào chữ đặt trước câu trả lời đúng. (2 điểm)

1. Dấu phải điền vào ô trống ở phép so sánh sau đây  $6\text{m } 4\text{ cm} \square 7\text{ m}$  là:

A. >      B. <      C. =      D. Không điền được dấu nào.

2.  $1\text{ giờ} - 20\text{ phút} =$

A. 40 phút      B. 40 giờ      C. 80 phút      D. Không trừ được.

3. Phép tính nhân nào dưới đây có kết quả là 24 ?

A.  $6 \times 9$       B.  $7 \times 5$       C.  $6 \times 4$       D.  $7 \times 6$

4. Phép tính chia nào dưới đây có kết quả là 7 ?

A.  $28 : 7$       B.  $48 : 6$       C.  $81 : 9$       D.  $56 : 8$

**Bài 2:** Nối biểu thức ứng với giá trị đã cho? ( 2 điểm)

$$(100 + 11) \times 6$$

$$100 + 11 \times 6$$

$$201 + 39 : 3$$

$$375 - 10 \times 3$$

$$214$$
$$666$$
$$452$$
$$345$$
$$166$$

**Bài 3:** Đặt tính rồi tính: ( 2 điểm )

a)  $26 \times 7$

b)  $213 \times 4$

c)  $246 : 6$

d)  $343 : 3$

.....

.....

.....

.....

.....

**Bài 4:** Viết vào ô trống theo mẫu: ( 1 điểm )

Cạnh hình vuông	7cm	21cm	35dm
Chu vi hình vuông	$7 \times 4 = 28\text{cm}$		

**Bài 5:** ( 2 điểm ) Một kho thóc có 180 bao thóc. Người ta đã bán hết  $\frac{1}{3}$  số bao thóc trong kho. Hỏi trong kho còn lại bao nhiêu bao thóc ?

Bài giải:

.....

.....

.....

.....

.....

**Bài 6:** Đồng hồ hình bên chỉ mấy giờ ? ( 1 điểm )



.....