

BỒI DƯỠNG NĂNG LỰC TOÁN
HỆ THỐNG GIÁO DỤC TRỰC TUYẾN VINASTUDY.VN
ĐỀ ÔN THI GIỮA HỌC KÌ I - LỚP 3
ĐỀ SỐ 1

www.vinastudy.vn

Bài 1: Đặt tính rồi tính

$283 + 892$

$920 - 109$

$216 + 738$

.....
.....
.....

126×3

67×5

181×9

.....
.....
.....

$99 : 9$

$89 : 2$

$39 : 4$

.....
.....
.....

Bài 2: Tính giá trị biểu thức

$75 \times 4 + 50$

$48 : 4 + 18$

.....
.....
.....

$5 \times 9 + 210$

$721 - 11 \times 8$

.....

Bài 3: Tìm X

$$X \times 4 = 40$$

$$40 : X = 4$$

$$X : 7 = 15$$

$$X : 2 + 10 = 22$$

Bài 4: Điền kết quả vào dấu chấm

$$\frac{1}{4} \text{ của } 20\text{m} = \dots\dots\dots\text{mét.}$$

$$\frac{1}{5} \text{ của } 1 \text{ giờ} = \dots\dots\dots\text{phút.}$$

$$\frac{1}{7} \text{ của } 35 \text{ ngày} = \dots\dots\dots\text{ngày.}$$

$$\frac{1}{3} \text{ của } 24 \text{ lít} = \dots\dots\dots\text{lít.}$$

Bài 5: Điền dấu (<; =; >) thích hợp vào chỗ chấm

$$800\text{cm} \dots\dots 8\text{m } 2\text{cm.}$$

$$6\text{m } 70\text{cm} \dots\dots 670\text{cm.}$$

$$3\text{hm} \dots\dots 300\text{m.}$$

$$3\text{hm } 4\text{dam} \dots\dots 34 \text{ m.}$$

$$1\text{hm } 4\text{m} \dots\dots 150\text{m.}$$

$$801\text{cm} \dots\dots 8\text{m } 1\text{cm}$$

Bài 6: Một cửa hàng buổi sáng bán được 55m vải, buổi chiều bán được số mét vải bằng số mét vải của buổi sáng giảm đi 5 lần. Hỏi buổi chiều cửa hàng đó bán được bao nhiêu mét vải?

Bài giải

Bài 7: Nhà bạn Trà có một số cái cốc, biết rằng nếu số cốc đó xếp đều mỗi hộp 5 cái thì được 6 hộp và còn thừa 2 cái cốc. Hỏi nhà bạn Trà có bao nhiêu cái cốc?

Bài giải

.....
.....
.....

Bài 8: Thùng thứ nhất có 135 lít dầu , thùng thứ hai có 170 lít dầu .Hỏi thùng thứ hai có nhiều hơn thùng thứ nhất bao nhiêu lít dầu ?

Bài giải

.....
.....
.....

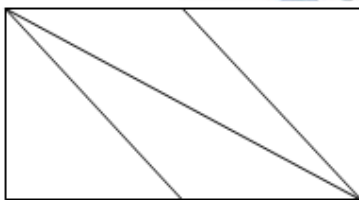
Bài 9:

- a) Thứ 5 tuần này là ngày 25 tháng 3. Hỏi thứ 5 tuần sau là ngày bao nhiêu ?
- b) Ngày 30 tháng 7 là chủ nhật thì ngày 2 tháng 8 là thứ mấy ?
- c) Ngày 23 tháng 8 là chủ nhật thì ngày 2 tháng 9 năm đó là thứ mấy ?


Bài giải

.....
.....
.....

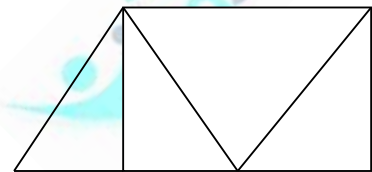
Bài 10:



a) Cóhình tam giác



b) Các góc vuông là :



c) Cóhình tam giác.

Cógóc vuông.

BỒI DƯỠNG NĂNG LỰC TOÁN
HỆ THỐNG GIÁO DỤC TRỰC TUYẾN VINASTUDY.VN
ĐỀ ÔN THI GIỮA HỌC KÌ I - LỚP 3
ĐỀ SỐ 2

www.vinastudy.vn

I. Đề bài trắc nghiệm (2,5 điểm) Khoanh tròn vào chữ cái đặt trước câu trả lời đúng.

1. Một tuần lễ có 7 ngày. Hỏi 6 tuần lễ có bao nhiêu ngày ?

- A. 28 B. 35 C. 42 D. 21

2. $\frac{1}{3}$ của 24 hm là:

- A. 5hm B. 10hm C. 8hm D. 12hm

3. Số cần viết tiếp vào chỗ chấm của dãy số 14; 21; 28; 35; 42;;

- A. 49; 56 B. 56; 63 C. 7; 14 D. 30; 35

4. Trong các phép chia có dư với số chia là 6 thì số dư lớn nhất của phép chia đó là:

- A. 2 B. 4 C. 5 D. 6

5. Số cần điền vào chỗ chấm của $3\text{dm } 4\text{cm} = \dots\dots\dots\text{cm}$ là:

- A. 34 B. 304 C. 340 D. 3004

II. Đề bài tự luận (7,5 điểm)

Bài 1: Tính nhẩm:

$6 \times 4 = \dots\dots\dots$ $7 \times 7 = \dots\dots\dots$ $7 \times 5 = \dots\dots\dots$ $6 \times 7 = \dots\dots\dots$

$36 : 6 = \dots\dots\dots$ $42 : 6 = \dots\dots\dots$ $49 : 7 = \dots\dots\dots$ $56 : 7 = \dots\dots\dots$

Bài 2 : Đặt tính rồi tính:

19×6 13×3 $96 : 3$ $48 : 2$

.....
.....
.....

Bài 3: Tìm X:

$X : 5 = 4 \text{ (dư 2)}$

$X + 12 = 48$

.....
.....
.....

Bài 4: Trong thùng có 36 lít dầu. Sau khi sử dụng, số dầu còn lại trong thùng bằng $\frac{1}{4}$ số dầu đã có.

Hỏi trong thùng còn lại bao nhiêu lít dầu ?

.....
.....
.....
.....

Bài 5: Lan gấp được 5 bông hoa, nếu Mai gấp thêm 2 bông hoa nữa thì số bông hoa của Mai gấp được gấp hai lần số bông hoa của Lan. Hỏi Mai gấp được bao nhiêu bông hoa ?

.....
.....
.....
.....
.....

BỒI DƯỠNG NĂNG LỰC TOÁN
HỆ THỐNG GIÁO DỤC TRỰC TUYẾN VINASTUDY.VN
ĐỀ ÔN THI GIỮA HỌC KÌ I – LỚP 3
ĐỀ SỐ 3

www.vinastudy.vn

I. Phần trắc nghiệm (2 điểm): Khoanh tròn vào câu trả lời đúng

Câu 1: Số gồm có 9 trăm và 9 đơn vị là số:

- A. 909 B. 99 C. 990 D. 999

Câu 2: Bình tính $0 : 7 \times 1$ có kết quả là ?

- A. 7 B. 1 C. 0 D. 10

Câu 3: Số liền trước số 300 là:

- A. 200 B. 299 C. 400 D. 301

Câu 4: Từ 500 đến 900 có bao nhiêu số tròn trăm

- A. 2 số B. 5 số C. 3 số D. 4 số

II. Phần tự luận

Bài 1: Đặt tính rồi tính

$$701 - 490$$

$$211 + 569$$

$$29 \times 7$$

$$36 : 5$$

Bài 2: Tính:

$$7 \times 9 + 308 = \dots\dots\dots$$

$$36 : 3 \times 6 = \dots\dots\dots$$

Bài 3: Tìm X:

$$X : 7 = 14$$

$$X \times 6 = 36$$

Bài 4: Khối lớp Ba có 250 học sinh. Khối lớp Hai có 225 học sinh. Hỏi Khối lớp Ba có nhiều hơn Khối lớp Hai bao nhiêu học sinh ?

Bài 5: Tính hiệu, biết số bị trừ là số lớn nhất có ba chữ số và số trừ là 900 ?

HỆ THỐNG GIÁO DỤC TRỰC TUYẾN VINASTUDY.VN

www.vinastudy.vn

I. Trắc nghiệm: Em hãy khoanh tròn vào chữ cái đặt trước câu trả lời đúng

1. Cho các số: 928; 982; 899; 988. Số lớn nhất là:

- A. 928 B. 982 C. 899 D. 988

2. - 30 = 400. Số thích hợp để điền vào ô trống là:

- A. 260 B. 340 C. 430 D. 240

3. $\frac{1}{3}$ của 24kg là:

- A. 12kg B. 8kg C. 6kg D. 4kg

4. Kết quả của phép nhân 28×5 là:

- A. 410 B. 400 C. 140 D. 310

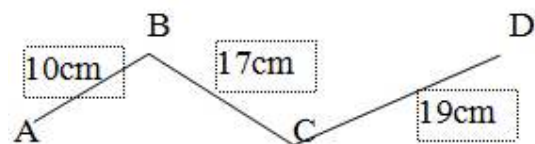
5. Kết quả của phép chia $36 : 4$ là:

- A. 4 B. 6 C. 8 D. 9

6. Cho dãy số: 9; 12; 15;;;; Các số thích hợp để điền vào chỗ chấm là:

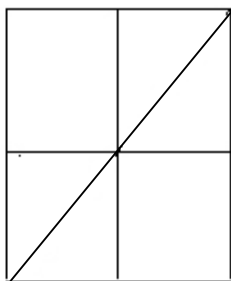
- A. 18; 21; 24 B. 16; 17; 18 C. 17; 19; 21 D. 18; 20; 21

7. Độ dài đường gấp khúc ABCD là:



- A. 68cm B. 86cm C. 46cm D. 76cm

8. Hình bên có:



A. 9 hình chữ nhật, 4 hình tam giác

- B. 8 hình chữ nhật, 4 hình tam giác
C. 9 hình chữ nhật, 6 hình tam giác
D. 8 hình chữ nhật, 5 hình tam giác

II. Phần tự luận

Bài 1: Đặt tính rồi tính

a) $248 + 136$

b) $375 - 128$

c) 48×6

d) $49 : 7$

Bài 2: Tính:

a) $84 \times 7 - 99$

b) $23 \times 9 + 15$

Bài 3: Tìm X:

a) $X \times 6 = 42$

b) $24 : X = 4$

Bài 4: Đoạn dây thứ nhất dài 18dm, đoạn dây thứ hai dài gấp 6 lần đoạn dây thứ nhất. Hỏi đoạn dây thứ hai dài bao nhiêu đề-xi-mét ?

www.vinastudy.vn

A. Trắc nghiệm: Khoanh tròn hoặc ghi đáp số vào mỗi bài tập sau:

Bài 1: Trong phép chia có dư với số chia là 3, số dư lớn nhất có thể có trong phép chia đó là:

- A. 3 B. 2 C. 1 D. 0

Bài 2: 9km =m. Số thích hợp viết vào chỗ chấm là:

- A. 90 B. 900 C. 9000 D. 900m

Bài 3: Tính giá trị của biểu thức: $7 \times 6 + 105$

- A. 147 B. 174 C. 777 D. 137

Bài 4: Tìm số dư trong phép chia: $50 : 6$

- A. 1 B. 5 C. 3 D. 2

B. Tự luận

Bài 1: Đặt tính rồi tính:

$415 + 307$

27×6

$428 - 245$

$63 : 7$

.....
.....
.....

Bài 2: Một cửa hàng buổi sáng bán được 60 lít dầu, số lít dầu bán được trong buổi chiều giảm đi 3 lần so với buổi sáng. Hỏi buổi chiều cửa hàng bán được bao nhiêu lít dầu ?

.....
.....
.....
.....

.....
.....
Bài 3: Một hình chữ nhật có chiều rộng bằng 8m, chiều dài gấp 2 lần chiều rộng. Tính chu vi hình chữ nhật đó ?

.....
.....
.....
.....
.....
.....

HỆ THỐNG GIÁO DỤC TRỰC TUYẾN VINASTUDY.VN

BỒI DƯỠNG NĂNG LỰC TOÁN
HỆ THỐNG GIÁO DỤC TRỰC TUYẾN VINASTUDY.VN
ĐỀ ÔN THI GIỮA HỌC KÌ I – LỚP 3
ĐỀ SỐ 6

ĐĂNG KÍ CHƯƠNG TRÌNH HỌC TRỰC TUYẾN TẠI VINASTUDY.VN QUA 0932.39.39.56

www.vinastudy.vn

I. Trắc nghiệm:

Khoanh tròn vào chữ cái đặt trước câu trả lời đúng.

1. Số có ba chữ số lớn nhất là :
a. 100 b. 989 c. 900 d. 999
2. $418 + 201 = \dots$ Số cần điền vào chỗ chấm là :
a. 621 b. 619 c. 719 d. 629
3. $627 - 143 = \dots$ Số cần điền vào chỗ chấm là :
a. 474 b. 374 c. 574 d. 484
4. $6 \times 6 \square 30 + 5$. Dấu cần điền vào ô trống là :
a. < b. > c. =
5. $\frac{1}{5}$ của 35m làSố cần điền vào chỗ chấm là:
a. 6m b. 7m c. 8m d. 9m
6. 42 giờ giảm đi 6 lần thì còn.....Số cần điền vào chỗ chấm là :
a. 7 giờ b. 8 giờ c. 9 giờ d. 10 giờ
7. $3m4cm = \dots\dots\dots cm$. Số cần điền vào chỗ chấm là :
a. 34 b. 304 c. 340 d. 7
8. Mỗi tuần lễ có 7 ngày. Hỏi 4 tuần lễ có bao nhiêu ngày ?
a. 11 ngày b. 21 ngày c. 24 ngày d. 28 ngày

II. Thực hành:

Câu 1 : Đặt tính rồi tính:

$452 + 361$

$541 - 127$

54×6

$24 : 6$

Câu 2 : Tính:

$$5 \times 7 + 27$$

$$80 : 2 - 13$$

Câu 3 : Tìm X

$$x \times 4 = 32$$

$$X : 6 = 12$$

Câu 4 : Một cửa hàng có 40 mét vải xanh và đã bán được $\frac{1}{5}$ số vải đó. Hỏi cửa hàng đó đã bán được bao nhiêu mét vải xanh ?

Bài giải:

BỒI DƯỠNG NĂNG LỰC TOÁN
HỆ THỐNG GIÁO DỤC TRỰC TUYẾN VINASTUDY.VN
ĐỀ ÔN THI GIỮA HỌC KÌ I – LỚP 3
ĐỀ SỐ 7

www.vinastudy.vn

PHẦN TRẮC NGHIỆM:

Câu 1: 7 gấp lên 6 lần thì bằng :

- A.1 B.13 C.42 D.48

Câu 2 : 8m2cm =cm .Số thích hợp để điền vào chỗ chấm là :

- A.82 B.802 C.820 D.8200

Câu 3: Kết quả của dãy tính $15 \times 4 + 5$ là :

- A.95 B.24 C.65 D.55

Câu 4: Một tuần lễ có 7 ngày, 5 tuần lễ có số ngày là :

- A.12 B.25 C.30 D.35

Câu 5: $\frac{1}{6}$ của 48 m là:

- A.8m B.42m C.54m D.65

Câu 6 :Số bảy trăm linh bảy viết là :

- A.770 B.707 C.777 D.700

PHẦN TỰ LUẬN:

Câu 1: Đặt tính rồi tính

$635 + 218$

$426 - 119$

56×4

45×6

.....

.....

.....

Câu 2: Tính :

$5 \times 5 + 18$

$5 \times 7 - 23$

$7 \times 7 \times 2$

Câu 3: Tìm x

$84 : X = 2$

$X : 4 = 36$

Câu 4: Đội tuyển học sinh giỏi Trường Tiểu học Kim Đồng có 78 học sinh, trong đó có $\frac{1}{3}$ là số học sinh giỏi Toán. Hỏi trường Tiểu học Kim Đồng có bao nhiêu học sinh giỏi toán?

HỆ THỐNG GIÁO DỤC TRỰC TUYẾN VINASTUDY.VN

BỒI DƯỠNG NĂNG LỰC TOÁN
HỆ THỐNG GIÁO DỤC TRỰC TUYẾN VINASTUDY.VN
ĐỀ ÔN THI GIỮA HỌC KÌ I – LỚP 3
ĐỀ SỐ 8

www.vinastudy.vn

Phần I: Trắc nghiệm:

Khoanh vào chữ cái đặt trước câu trả lời đúng.

1. $8 \times 7 + 42 = ?$

- A. 120 B. 98 C. 14 D. 36

2. $7 \times X = 56$ thì $X = ?$

- A. 392 B. 49 C. 63 D. 8

3. $\frac{1}{6}$ của 1 giờ là:

- A. 15 phút B. 10 phút C. 12 phút D. 20 phút

4. Tìm x biết:

$$96 : x = 3$$

- A. $x = 32$ B. $x = 303$ C. $x = 302$ D. $x = 203$

5. $5m6cm = \dots\dots cm$. Số thích hợp để điền vào chỗ chấm là:

- A. 56 B. 506 C. 560 D. 5600

6. Một tuần lễ có 7 ngày, 4 tuần lễ có số ngày là:

- A. 28 B. 21 C. 11 D. 35

Phần II: Tự luận:

Bài 1: Đặt tính rồi tính:

$157 + 109$

$548 - 193$

16×5

$86 : 2$

Bài 2: Tìm x:

a) $X : 7 = 63$

b) $X \times 6 = 54$

Bài 3: Tính:

a) $28 \times 7 - 58$

b) $96 : 3 + 249$

Bài 4: Mẹ có một tấm vải dài 48m. Mẹ đã may áo cho cả nhà hết $\frac{1}{2}$ số vải đó. Hỏi mẹ đã may bao nhiêu mét vải ?

Bài giải:

BỒI DƯỠNG NĂNG LỰC TOÁN
HỆ THỐNG GIÁO DỤC TRỰC TUYẾN VINASTUDY.VN
ĐỀ ÔN THI GIỮA HỌC KÌ I – LỚP 3
ĐỀ SỐ 9

www.vinastudy.vn

PHẦN I: Trắc nghiệm :

Khoanh tròn chữ (A, B, C và D) trước câu trả lời có kết quả đúng.

Câu 1: 1dam =m

Số cần điền vào chỗ chấm là:

- A.10 B.1 C.100 D.20

Câu 2: $32 : 4 = \dots ?$

Kết quả của phép tính là:

- A.6 B.7 C.8 D.9

Câu 3: $20 : 4 \times 5 = \dots$

Kết quả của phép tính là:

- A.30 B.25 C.20 D.24

Câu 4: 14 giờ 30 phút hay còn gọi là:

- A.4 giờ chiều B.2 giờ chiều C. 2 giờ 30 phút chiều D. 2 giờ

Câu 5: $\frac{1}{2}$ của 16 giờ là:.....giờ. Số cần điền vào chỗ chấm là:

- A.6 B.8 C.32 D. 14

Câu 6: $32 : X = 8$.Thì $X = ?$

- A.3 B.4 C.5 D.6

B. Phần tự luận:

Bài 1: Đặt tính rồi tính :

a) $129 + 245$

b) $463 - 138$

c) 36×7

d) $96 : 3$

.....
.....
.....

Bài 2: Tìm X :

a) $27 : X = 3$

b) $X : 7 = 18$

.....
.....
.....

Bài 3: Tính:

a) $48 \times 4 - 29$

b) $77 : 7 + 148$

.....
.....
.....

Bài 4: Lan sưu tầm được 18 con tem, Ngọc sưu tầm được số tem gấp 3 lần số tem của Lan. Hỏi Ngọc sưu tầm được bao nhiêu con tem ?

Bài giải :

.....
.....
.....

BỒI DƯỠNG NĂNG LỰC TOÁN
HỆ THỐNG GIÁO DỤC TRỰC TUYẾN VINASTUDY.VN
ĐỀ ÔN THI GIỮA HỌC KÌ I - LỚP 3
ĐỀ SỐ 10

www.vinastudy.vn

I. PHẦN TRẮC NGHIỆM :

Bài 1: Khoanh tròn chữ đặt trước kết quả đúng:

a. 32 giảm 4 lần

A. $32 - 4 = 28$

B. $32 : 4 = 6$

C. $32 : 4 = 8$

b. 35 giảm 5 lần

A. $35 - 5 = 30$

B. $35 : 5 = 7$

C. $35 : 5 = 6$

c. 24 giảm 3 lần

A. $24 - 3 = 21$

B. $24 : 3 = 7$

C. $24 : 3 = 8$

Bài 2: Viết số thích hợp vào chỗ chấm:

a. $\frac{1}{5}$ của 40 m là m;

b. $\frac{1}{7}$ của 35 m là m;

Bài 3: Điền dấu <, >, = thích hợp vào chỗ chấm:

3m6cm....36cm

4dm3cm....43cm

II. PHẦN TỰ LUẬN:

Bài 1: Đặt tính rồi tính:

156 + 217

463 - 118

45 x 5

54 : 6

Bài 2: Tìm x:

a) $x : 6 = 5$

b) $x \times 7 = 70$

Bài 3: Tính:

a) $19 \times 4 - 37$

b) $30 : 3 + 125$

.....
.....
.....

Bài 4: Bác An nuôi được 48 con thỏ, Bác Tâm nuôi gấp đôi số thỏ của Bác An. Hỏi Bác Tâm nuôi được bao nhiêu con thỏ ?

Bài giải:

.....
.....
.....

HỆ THỐNG GIÁO DỤC TRỰC TUYẾN VINASTUDY.VN