

BỒI DƯỠNG NĂNG LỰC TOÁN
HỆ THỐNG GIÁO DỤC TRỰC TUYẾN VINASTUDY.VN
ÔN THI GIỮA HỌC KÌ I – LỚP 4

Đề số 1

www.vinastudy.vn

Phần I: Khoanh tròn vào chữ cái trước câu trả lời đúng.

Câu 1: Số 47032 đọc là:

- A. Bốn mươi bảy nghìn hai trăm ba mươi.
- B. Bốn mươi bảy nghìn ba trăm linh hai
- C. Bốn mươi bảy nghìn không trăm ba mươi hai
- D. Bốn mươi bảy nghìn ba trăm không mươi hai

Câu 2: Trong các số 678387 chữ số 6 ở hàng, lớp.....

- A. Hàng trăm nghìn, lớp nghìn
- B. Hàng chục nghìn, lớp nghìn
- C. Hàng nghìn, lớp nghìn
- D. Hàng trăm nghìn, lớp đơn vị

Câu 3: Viết số thích hợp vào chỗ chấm của:

a. 5 tạ 8kg =kg

- A. 500
- B. 580
- C. 508
- D. 518

b. 2 phút 10 giây =giây

- A. 110
- B. 120
- C. 130
- D. 140

Câu 4: Kết quả của các phép tính là: a) $769564 + 40526$

- A. 810090
- B. 810190
- C. 811090
- D. 810091

b) 62975 – 24138

A. 38837

B. 37837

C. 38937

D. 37847

Câu 5: Tìm x

a) $x - 425 = 625$

$1200 - x = 666$

.....

.....

.....

Phần II. Trình bày lời giải

Trong thư viện có 1800 cuốn sách, trong đó số sách giáo khoa nhiều hơn số sách đọc thêm 1000 cuốn. Hỏi trong thư viện có bao nhiêu cuốn sách mỗi loại?

.....

.....

.....

.....

.....

.....

.....

BỒI DƯỠNG NĂNG LỰC TOÁN
HỆ THỐNG GIÁO DỤC TRỰC TUYẾN VINASTUDY.VN
ÔN THI GIỮA HỌC KÌ I – LỚP 4

Đề số 2

www.vinastudy.vn

Phần I: Em hãy khoanh tròn vào chữ cái đặt trước kết quả đúng.

1/ Giá trị của chữ số 5 trong số: 571638 là:

- a. 500 b. 50000 c. 500000 d. 5000000

2/ Số lớn nhất trong các số 725369; 725396; 725936; 725693

- a. 725936. b. 725396 c. 725369 d. 725693

3/ 3 tạ 60 kg = kg. Số thích hợp cần điền vào chỗ chấm là :

- a. 306 b. 603 c. 360 d. 3600

4/ 2 giờ 30 phút = phút. Số thích hợp cần điền vào chỗ chấm là :

- a. 60 b. 120 c. 90 d. 150

5/ Trung bình cộng của các số 10 ; 30 ; 50; 70 là :

- a. 40 b. 30 c. 20 d. 10

Phần II : Tự luận

Câu 1 : Đặt tính rồi tính.

a) $514626 + 8236$

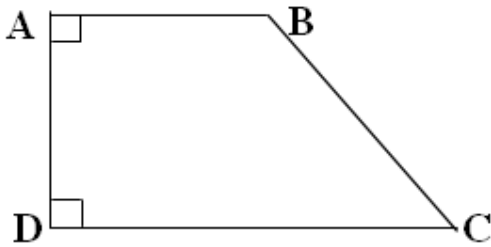
b) $987864 - 783251$

.....

.....

.....

Câu 2: Cho hình tứ giác ABCD



a/ Cặp cạnh song song là :

b/ Các cặp cạnh vuông góc là :

c/ Góc tù là góc :

d/ Góc nhọn là góc :

Câu 3 : Tính chu vi của hình chữ nhật có chiều dài 25 cm, chiều rộng 15 cm.

.....
.....
.....
.....

Câu 4 : Hiện nay tổng số tuổi mẹ và tuổi con là 45 tuổi. Con ít hơn mẹ 27 tuổi. Tính tuổi con và tuổi mẹ ?

.....
.....
.....
.....

BỒI DƯỠNG NĂNG LỰC TOÁN
HỆ THỐNG GIÁO DỤC TRỰC TUYẾN VINASTUDY.VN
ÔN THI GIỮA HỌC KÌ I – LỚP 4

Đề số 3

www.vinastudy.vn

Phần 1: Trắc nghiệm

Bài 1: Khoanh vào câu trả lời đúng

A. $6\text{kg}5\text{g} = \dots\dots\dots\text{g}$. Số điền vào chỗ chấm là:

a, 6005 b, 605 c, 65

B. 1 phút 5 giây =giây. Số điền vào chỗ chấm là:

a, 650 b, 65 c, 56

C. Một mảnh vườn hình vuông có cạnh 8 m. Diện tích hình vuông là:

a, 32m^2 b, 64m^2 c, 16m^2

D. Trung bình cộng của 3 số : 45 , 55 , 65 là:

a, 45 b, 55 c, 50

Bài 2: Đọc các số sau:

- 46 307:.....

- 125 317 :.....

Viết các số sau:

- Ba mươi sáu nghìn bốn trăm:.....

- Tám trăm linh sáu nghìn, chín trăm bảy mươi bảy:.....

Bài 3: Điền dấu thích hợp vào chỗ chấm:

89 999.....90 000

89 80089 786

Bài 4: Xếp các số theo thứ tự từ lớn đến bé.

6750 , 7650 , 6507 , 7560

Phần 2: Tự luận

Bài 1: Đặt tính rồi tính.

a, $235\ 789 + 121\ 021$

b, $89\ 743 - 11\ 599$

.....

.....

.....

Bài 2: Bài toán:

Một lớp học có 36 học sinh , trong đó số học sinh nữ nhiều hơn số sinh nam 6 em.
Hỏi lớp học đó có bao nhiêu học sinh nữ , bao nhiêu học sinh nam

.....

.....

.....

.....

.....

.....

.....

BỒI DƯỠNG NĂNG LỰC TOÁN
HỆ THỐNG GIÁO DỤC TRỰC TUYẾN VINASTUDY.VN
ÔN THI GIỮA HỌC KÌ I – LỚP 4

Đề số 4

www.vinastudy.vn

Phần I: Mỗi bài tập dưới đây có các câu trả lời **A,B,C,D**. Hãy khoanh vào chỗ đặt trước các câu trả lời đúng.

Bài 1:

a) Số “*Ba triệu không trăm hai mươi tám nghìn sáu trăm linh bốn*” viết là:

A 300028604 B 30028604 C 3028604 D 30286040

b) Số lớn nhất trong các số 5571; 6571; 5971; 6570

A 5571 B. 6571 C. 5971 D. 6570

Bài 2:

a) Cho biết $56031 = 50000 + \square + 30 + 1$. Số thích hợp để viết vào ô trống là:

A. 60 B. 600 C. 6000 D. 60000

b) Bác Hồ ra đi tìm đường cứu nước vào năm 1911. Năm đó thuộc thế kỷ nào?

A. XVIII B XVI C. XXI D. XX

Bài 3:

a) 4 tấn 29 kg =kg ? Số thích hợp để viết vào chỗ chấm là:

A. 429 kg B.4029 kg C.4290kg D.40029 kg

b) 2 ngày 18 giờ =giờ

A. 62 giờ B.48 giờ C.56 giờ D. 66 giờ

Phần II:

1) Đặt tính rồi tính.

a) $51236 + 45619$ b) $13058 - 8769$ c) 2057×3 d) $65840 : 5$

.....
.....
.....

2) Tìm x:

a) $x - 363 = 975$

b) $815 - x = 207$

.....
.....
.....

3) Tìm bằng cách thuận tiện nhất.

a) $37 + 24 + 3$

b) $742 + 99 + 1$

.....
.....
.....

Phần III: Trình bày lời giải

Một hình chữ nhật có nửa chu vi là 22m. Chiều dài hơn chiều rộng 10 m . Tính diện tích hình chữ nhật đó ?

.....

.....

.....

.....

.....

.....

HỆ THỐNG GIÁO DỤC TRỰC TUYẾN VINASTUDY.VN

BỒI DƯỠNG NĂNG LỰC TOÁN
HỆ THỐNG GIÁO DỤC TRỰC TUYẾN VINASTUDY.VN
ÔN THI GIỮA HỌC KÌ I – LỚP 4

Đề số 5

www.vinastudy.vn

Bài 1: Viết vào chỗ chấm (theo mẫu)

Viết số	Đọc số
27 643 518	Hai mươi bảy triệu sáu trăm bốn ba nghìn năm trăm mười tám.
a).....	Mười sáu triệu hai trăm linh năm nghìn sáu trăm bảy mươi một.
181 164	b).....
c).....	Bốn trăm năm mươi sáu triệu bảy trăm tám mươi chín nghìn không trăm mười hai
8 422 742

Bài 2: Viết số thích vào chỗ chấm:

Hiền	<input type="text"/> <input type="text"/> <input type="text"/> <input type="text"/>	<input type="text"/> <input type="text"/> <input type="text"/> <input type="text"/> <input type="text"/>
Hoà	<input type="text"/> <input type="text"/> <input type="text"/>	<input type="text"/> <input type="text"/> <input type="text"/> <input type="text"/>

Hiền vẽ được: a).....hình vuông ; b)hình tròn

Hoà vẽ được : a).....hình vuông ; b).....hình tròn

Bài 3: Đúng ghi Đ, sai ghi S vào ô trống:

a) 2 giờ 27 phút = 147 phút b) 4 tạ 6 kg = 460 kg

Bài 4: Đặt tính rồi tính:

a) $38267 + 35204$

b) $87725 - 21252$

c) 1126×2

d) $1836 : 3$

.....

.....

.....

.....

.....

Bài 5: Khoanh vào chữ đặt trước câu trả lời đúng:

Số thích hợp để điền vào chỗ chấm để $7800\text{dm} = \dots\text{m}$ là:

A. 780 000

B. 78 000

C. 780

D. 78

Bài 6: Một cửa hàng bán gạo. Ngày đầu bán được 1890kg gạo, ngày thứ hai bán ít hơn ngày đầu 560 kg. Hỏi cả hai ngày cửa hàng đó bán được bao nhiêu kg gạo?

.....

.....

.....

.....

.....

.....

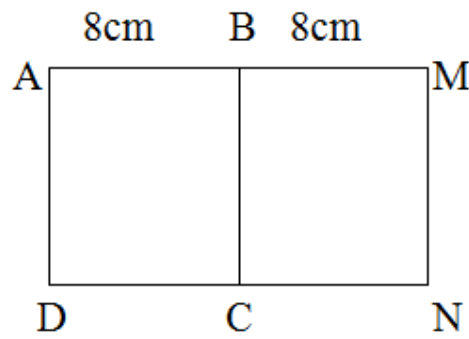
.....

.....

.....

.....

Bài 7: Cho hình vẽ bên. Biết ABCD và BMNC là các hình vuông cạnh 8cm.



Viết tiếp vào chỗ chấm:

- a) Đoạn thẳng AM vuông góc với các đoạn thẳng:.....
- b) Diện tích hình chữ nhật AMND là:

HỆ THỐNG GIÁO DỤC TRỰC TUYẾN VINASTUDY.VN

BỒI DƯỠNG NĂNG LỰC TOÁN
HỆ THỐNG GIÁO DỤC TRỰC TUYẾN VINASTUDY.VN
ÔN THI GIỮA HỌC KÌ I – LỚP 4

Đề số 6

www.vinastudy.vn

Bài 1: Viết các số sau:

- Sáu mươi hai nghìn ba trăm linh năm:
- Một trăm năm mươi hai nghìn sáu trăm:
- Tám mươi ba triệu hai mươi bốn nghìn:
- Năm trăm ba mươi một triệu không nghìn năm trăm hai mươi tám :

Bài 2: Khoanh vào chữ đặt trước câu trả lời đúng:

- Chữ số 7 trong số 5729018 có giá trị là:
A. 7000 B. 70000 C. 700000
- Năm 2011 thuộc thế kỉ:
A. XIX B. XX C. XXI

Bài 3: Đặt tính rồi tính:

- $125378 + 248459$
- $635783 - 290876$

Bài 4: Hai thùng dầu có tất cả 2575 lít. Thùng thứ nhất có số dầu nhiều hơn thùng thứ hai là 235 lít. Hỏi mỗi thùng có bao nhiêu lít dầu?

Bài 5: Hãy điền Đ (đúng) hoặc S (sai) vào ô trống:

- a. Một hình tứ giác có 4 góc vuông là hình vuông.
- b. Một hình tứ giác có bốn cạnh bằng nhau là hình vuông
- c. Hình chữ nhật là hình vuông
- d. Hình vuông là hình chữ nhật đặc biệt.

HỆ THỐNG GIÁO DỤC TRỰC TUYẾN VINASTUDY.VN

BỒI DƯỠNG NĂNG LỰC TOÁN
HỆ THỐNG GIÁO DỤC TRỰC TUYẾN VINASTUDY.VN
ÔN THI GIỮA HỌC KÌ I – LỚP 4
Đề số 7

www.vinastudy.vn

I. Phần trắc nghiệm:

Khoanh tròn chữ cái trước câu trả lời đúng nhất.

Bài 1:

a. Mười triệu tám trăm linh ba nghìn sáu trăm hai mươi

- A. 18 003 620 B. 10083 620 C. 10 803 620 D. 10 620 803

b. Sáu triệu bốn trăm năm mươi nghìn bảy trăm ba mươi mốt.

- A. 6 045 731 B. 6 450 731 C. 6 504 731 D. 6 450 317

c. Giá trị của chữ số 5 trong số 35 161 là:

- A. 5 000 B. 500 C. 50000 D. 50

Bài 2:

a) 3 tấn 5kg. Số điền vào chỗlà:

- A. 350kg B. 3050kg C. 3005kg D. 30050kg

b) 2 giờ 15 phút = Số điền vào chỗlà:

- A. 215 B. 17 C. 35 D. 135

c) Trung bình cộng của các số: 364; 290 và 636 là:

- A. 430 B. 463 C. 327 D. 360

II. Phần tự luận:

Bài 3: Đặt tính rồi tính:

$$48765 + 26592$$


$$368517 - 74639$$

.....

.....

.....

Bài 4: Điền tên gọi tương ứng dưới mỗi góc sau đây:



Bài 5: Bài toán:

Hai thửa ruộng thu hoạch được tất cả 35 tạ thóc. Biết rằng thửa ruộng thứ nhất thu hoạch được ít hơn thửa ruộng thứ hai là 5 tạ thóc. Hỏi mỗi thửa ruộng thu hoạch được bao nhiêu tạ thóc?

.....

.....

.....

.....

.....

.....

www.vinastudy.vn

Phần 1:

Bài 1: Em hãy khoanh vào chữ cái trước câu trả lời đúng.

1. Số “*bảy mươi hai triệu*” viết là:

- A. 7 200 B. 72 000 000 C. 7 200 000 D. 72 000

2. Trong số **1 056 900**, chữ số **5** có giá trị là:

- A. 500 000 B. 50 000 C. 5000 D. 500

3. 6 phút 36 giây = giây.

- A. 360 B. 376 C. 380 D. 396

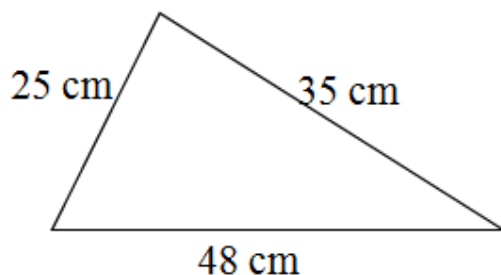
4. Trung bình cộng của: 220; 240; 260 và 280 là:

- A. 250 B. 260 C. 270 D. 280

Bài 2: Đúng ghi Đ, sai ghi S vào ô trống:

1) Giá trị của biểu thức: $130 \times 7 + 19708 = 20610$

2) Chu vi của hình tam giác bên là 108 cm.



Bài 3: Cho hình chữ nhật ABCD. Em hãy ghi tên các cặp song song với nhau.

Trả lời.....

.....



.....

Phần II.

C

D

Bài 1: Tìm X:

a) $X + 537 = 5250$

b) $90532 - X = 26735$

.....

.....

.....

Bài 2:

1) Đặt tính rồi tính:

$6346 + 352;$

$74328 - 5942;$

$5034 \times 8;$

$14100 : 6$

.....

.....

.....

.....

.....

.....

2) Tính bằng cách thuận tiện nhất: $364 + 257 + 136 + 243$

.....

.....

Bài 3: Một trường Tiểu học có 555 học sinh. Số học sinh trai nhiều hơn số học sinh gái 27 em. Hỏi trường Tiểu học đó có bao nhiêu học sinh trai, bao nhiêu học sinh gái ?

.....

.....

.....

.....

.....

.....

.....

.....

.....

.....

HỆ THỐNG GIÁO DỤC TRỰC TUYẾN VINASTUDY.VN

BỒI DƯỠNG NĂNG LỰC TOÁN
HỆ THỐNG GIÁO DỤC TRỰC TUYẾN VINASTUDY.VN
ÔN THI GIỮA HỌC KÌ I – LỚP 4

Đề số 9

www.vinastudy.vn

PHẦN I: Trắc nghiệm: Hãy khoanh tròn vào chữ cái đặt trước câu trả lời đúng cho mỗi bài tập dưới đây:

Bài 1: “Ba triệu năm trăm mười lăm nghìn không trăm bốn mươi hai” viết là:

- A. 3 515 042 B. 3 515 420 C. 3 155 042 D. 3 515 024

Bài 2: Chữ số 8 của số 52 816 103 thuộc hàng nào?

- A. Hàng trăm B. Hàng nghìn C. Hàng triệu D. Hàng trăm nghìn

Bài 3: Số 176 715 638 có mấy lớp?

- A. 1 lớp B. 2 lớp C. 3 lớp D. 4 lớp

Bài 4: Số thích hợp viết vào chỗ chấm của 1 yến 7 kg =kg là:

- A. 107 B. 17 C. 170 D. 1700

Bài 5: Số thích hợp viết vào chỗ chấm của 3 giờ 40 phút =phút là:

- A. 70 B. 340 C. 100 D. 220

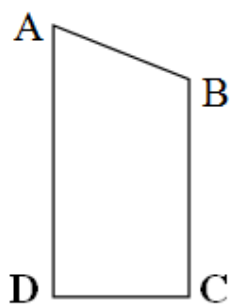
Bài 6: Lễ kỉ niệm 1000 năm Thăng Long- Hà Nội được tổ chức vào thế kỉ nào?

- A. X B. XXI C. XIX D. XX

Bài 7: Một hình vuông có chu vi là 24cm, diện tích của hình vuông đó là:

- A. 36cm B. 24cm C. 36cm² D. 24cm²

Bài 8: Cho hình bên:



Cạnh AD song song với cạnh nào dưới đây ?

- A. BC
- B. AB
- C. CD
- D. DA

PHẦN II: Tự luận:

Bài 1: Thực hiện các phép tính sau (có đặt tính):

569564 + 310652

45000 - 21306

2570 x 5

41272 : 4

.....

.....

.....

.....

Bài 2: Chiều cao của các bạn Mai, Lan, Thúy, Cúc và Hằng lần lượt là 142cm, 133cm, 145cm, 138cm và 132 cm. Hỏi trung bình mỗi bạn cao bao nhiêu xăng-ti-mét?

.....

.....

.....

.....

Bài 3: Tuổi mẹ và tuổi con cộng lại được 41 tuổi. Mẹ hơn con 27 tuổi. Hỏi mẹ bao nhiêu tuổi, con bao nhiêu tuổi ?

.....

.....

.....

.....

.....

.....

.....

HỆ THỐNG GIÁO DỤC TRỰC TUYẾN VINASTUDY.VN

BỒI DƯỠNG NĂNG LỰC TOÁN
HỆ THỐNG GIÁO DỤC TRỰC TUYẾN VINASTUDY.VN
ÔN THI GIỮA HỌC KÌ I – LỚP 4
Đề số 10

www.vinastudy.vn

A TRẮC NGHIỆM

I. Khoanh vào chữ cái trước câu có kết quả đúng :

Câu 1: Giá trị của chữ số 3 trong số 416 937 là:

- A. 3 B. 300 C. 3000 D. 30000

Câu 2: 3 tạ = yến

- A. 3 B. 30 C. 300 D. 3000

Câu 3: 1 phút 8 giây = giây.

- A. 68 B. 18 C. 108 D. 680

Câu 4: $\frac{1}{2}$ thế kỷ =năm

- A. 20 B. 30 C. 40

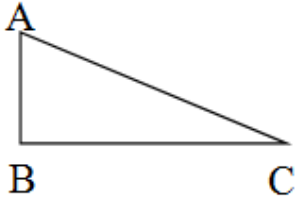
D

.

5

0

Câu 5: Hình tam giác ABC có:



- A. 1 góc nhọn. B. 3 góc nhọn. C. 2 góc nhọn.

Câu 6 : Trung bình cộng của 38kg, 32kg, 30kg, 36kg, 34kg là:

- A. 170kg B.34kg C. 34kg D. 68kg

II. Điền vào chỗ chấm:

Câu 1: Số 705 986 333 đọc là:

Câu 2: Số “Hai trăm triệu hai trăm linh chín nghìn sáu trăm bốn mươi lăm” Viết là :

.....

B PHẦN TỰ LUẬN

Bài 1. Đặt tính rồi tính :

a) $769564 + 410652$

b) $39700 - 24138$

.....

.....

.....

c) 2105×5

d) $41272 : 4$

Bài 2. Tìm x:

$$x - 425 = 137$$

Bài 3 Một cửa hàng bán gạo, ngày đầu bán được 320 kg gạo, ngày thứ hai bán được bằng $\frac{1}{2}$ số gạo của ngày đầu. Hỏi trung bình mỗi ngày bán được bao nhiêu Ki-lô-gam gạo?

.....

.....

.....

.....

.....

Bài 4: Tuổi mẹ và tuổi con cộng lại được 41 tuổi. Mẹ hơn con 27 tuổi. Hỏi mẹ bao nhiêu tuổi, con bao nhiêu tuổi ?

.....

.....

.....

.....

.....