

Bài thi học sinh giỏi lớp 1
Năm học 2009-2010
Môn thi: Toán
Thời gian làm bài 40 phút

Bài 1- (4 điểm)

Tính:

$2 + 3 + 4 =$

$4 + 6 - 9 =$

$8 - 8 + 0 =$

$9 - 5 - 4 =$

Bài 2- (4 điểm)

Điền dấu (<, >, =) thích hợp vào ô trống:

$8 - 4 \square 1 + 4$

$7 - 5 \square 10 - 7$

$0 + 3 \square 9 - 6$

$8 - 0 \square 0 + 8$

Bài 3- (4 điểm)

Có thể điền vào ô trống những số nào?

$8 - 5 < \square < 1 + 6$

$4 < \square - 2 < 9$

Bài 4- (4 điểm)

Một xe ô tô chở 10 khách . Đến một bến có 3 người xuống và 2 người lên.Hỏi trên xe bây giờ có bao nhiêu khách?

Giải:

.....

.....

.....

Bài 5- cho các số 1,2,3,4,5,6. Hãy xếp các số vào các chấm tròn sao cho các số trên một đường thẳng cộng lại đều bằng 9 (4 điểm)

.....

.....

.....

.....

PHÒNG GIÁO DỤC ĐÀO TẠO ĐÔ LƯƠNG
TRƯỜNG TIỂU HỌC NAM SƠN
.....&.....

ĐỀ KIỂM TRA HỌC SINH GIỎI
MÔN TOÁN :LỚP 1
Năm học : 2009- 2010

Họ và tên học sinh:.....
Lớp:Trường tiểu học Nam sơn Số báo danh:Thời gian: 40 phút

Bài 1. Xếp các số : 7, 4, 6, 2 , 9 , 8.

a. Theo thứ tự tăng dần:

.....

b. Theo thứ tự giảm dần:

.....

Bài 2. Số ?

10		8						2	
----	--	---	--	--	--	--	--	---	--

Dãy số trên, số nào khác nhất so với các số còn lại ?

.....
.....
.....
.....

Bài 3: Tính:

$5 + 1 = \dots$

$3 + 4 - 2 = \dots$

$6 - 4 = \dots$

$6 - 5 - 0 = \dots$

$7 - 5 = \dots$

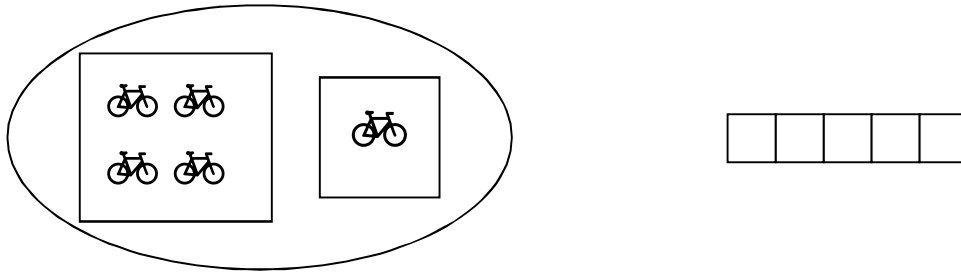
$2 + 1 - 3 = \dots$

Bài 4. $\begin{array}{|c|} \hline - + \\ \hline \end{array} ?$

$$\begin{array}{|c|} \hline 1 \\ \hline \end{array} \begin{array}{|c|} \hline 6 \\ \hline \end{array} = 7$$
$$0 \begin{array}{|c|} \hline \\ \hline \end{array} 6 = 4 \begin{array}{|c|} \hline \\ \hline \end{array} 2$$

$$3 \begin{array}{|c|} \hline 3 \\ \hline \end{array} > 5$$
$$4 \begin{array}{|c|} \hline \\ \hline \end{array} 2 < 1 \begin{array}{|c|} \hline \\ \hline \end{array} 2$$

Bài 5. Viết phép tính thích hợp



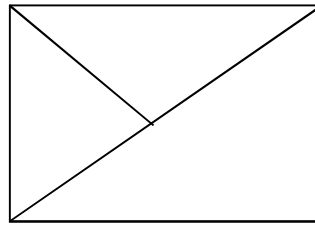
Bài 6. Hình vẽ dưới đây có ... hình tam giác?

Đánh dấu x vào trước ý đúng

3 hình tam giác

4 hình tam giác

5 hình tam giác



ĐỀ THI HỌC SINH GIỎI LỚP 1
MÔN : TOÁN Năm học: 2009-2010

Bài 1: Tính (2điểm)

$8 - 2 + 3 =$

$5 + 5 - 8 =$

$9 - 5 + 3 =$

$2 + 5 + 2 =$

$$10 - 2 + 0 = \quad 7 + 2 - 5 = \quad 6 + 0 + 3 = \quad 9 - 7 + 1 =$$

Bài 2: Số? (3điểm)

$$\begin{array}{lll} 5 + \dots < 2 + 5 & 1 + \dots < \dots + 3 & 2 + \dots < \dots + 5 \\ 8 - \dots > \dots + 2 & 10 - \dots = 5 + \dots & \dots - 4 > 5 + \dots \end{array}$$

Bài 3: Viết phép tính thích hợp (2điểm)

			=	9
--	--	--	---	---

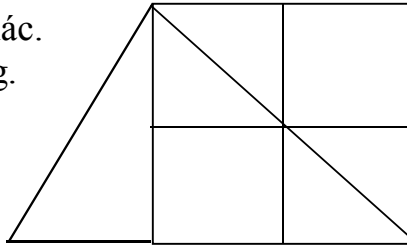
			=	7
--	--	--	---	---

Bài 4: (>, <, =) (2 điểm)

$$\begin{array}{ll} 5 + 4 \dots 3 + 5 + 0 & 1 + 5 + 2 \dots 6 + 3 \\ 7 - 5 \dots 6 - 4 + 3 & 2 + 6 - 1 \dots 4 + 3 \end{array}$$

Bài 5: Số? (1điểm)

Hình bên có hình tam giác.
 Hình bên có Hình vuông.



Đề thi học sinh học sinh giỏi lớp 1

Năm học 2001- 2002

Môn toán

(thời gian 40 phút)

Bài 1- Tính: (4 điểm)

$$5 - 0 + 1 - 6 = \quad 6 - 3 + 3 + 0 =$$

$$4 - 4 + 4 - 2 = \quad 5 + 1 - 2 + 2 =$$

Bài 2-Điền số vào ô trống cho thích hợp: (6 điểm)

$$5 - 2 = \square + 2 \quad \square + 4 > 5$$

$$6 - \square + \square = 4 + 2 \quad \square - 5 > 2$$

$$4 + \square > \square + 1 \quad 3 - \square < 2 + \square$$

Bài 3- Hoà 6 tuổi, Bình ít hơn Hoà 2 tuổi Nga nhiều hơn Bình 1 tuổi. Hỏi bạn Nga bao nhiêu tuổi? (4 điểm)

.....

.....
Bài 4- Cho bốn số 2,4,6, 0 . Hãy dùng dấu + , - , = để viết thành các phép tính đúng (4 điểm)
.....
.....
.....

Bài 5- Hãy điền dấu + , - vào ô trống cho thích hợp để phép tính có kết quả đúng (2 điểm)

$$1 \square 1 \square 1 \square 1 \square 1 \square 1$$

$$1 \square 1 \square 1 \square 1 \square 1 \square 1$$

THI KHẢO SÁT CHẤT LƯỢNG HỌC SINH GIỎI- LỚP 1

Năm học: 2008 - 2009

MÔN: **TOÁN**

Thời gian làm bài: 60 phút (Không kể thời gian giao đề)

Bài 1: Điền số thích hợp vào ô trống: (4 điểm)

$$\begin{array}{r} \square 4 \\ + \quad \square \\ \hline 3 \square \\ \hline 76 \end{array}$$

$$\begin{array}{r} 7 \square \\ - \quad \square 6 \\ \hline \quad 52 \end{array}$$

$$17 + \square = 28$$

$$\square - 14 = 35$$

$$33 + 51 < \square < 99 - 13$$

Bài 2: Điền dấu (+ , -) thích hợp vào chỗ (3 điểm)

$$40 \dots 32 \dots 7 = 89$$

$$75 \dots 12 \dots 2 = 61$$

$$88 \dots 23 \dots 4 = 69$$

Bài 3: (6 điểm)

a) Nếu thêm 13 viên bi thì Hùng sẽ có 58 viên bi. Hỏi Hùng có bao nhiêu viên bi?

(3 điểm)

b) Lan nghĩ ra một số, lấy số đó trừ 23 cộng 32 bằng 77. Hỏi số Lan nghĩ là bao nhiêu? (3 điểm)

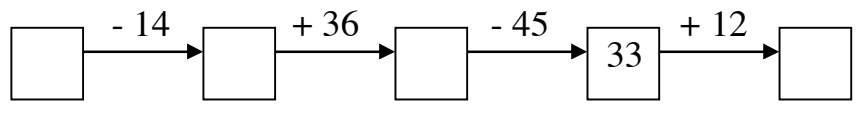
.....

.....

.....

.....

Bài 4: Số? (3 điểm)



Bài 5: (4 điểm)

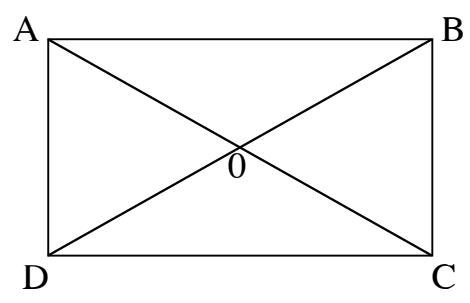
Hình bên có bao nhiêu đoạn thẳng?

.....

Kể tên các đoạn thẳng:

.....

.....



ĐÁP ÁN

Bài 1: (4 điểm)

- Điền đúng 6 ô trống đầu, mỗi ô được 0.5 điểm.
- Điền đúng số 85 vào: $33 + 51 < 85 < 99 - 13$ được 1 điểm

Bài 2: (3 điểm)

$40 + 32 + 7 = 89$ (1 điểm)

$75 - 12 - 2 = 61$ (1 điểm)

$88 - 23 + 4 = 69$ (1 điểm)

Điền sai 1 dấu (+, -, -) trừ 0.5 điểm.

Bài 3: (6 điểm)

a) (3 điểm)

Hùng có số viên bi là: (0.5 điểm)

$58 - 13 = 45$ (viên bi) (2 điểm)

Đáp số: 45 viên bi. (0.5 điểm)

b) (3 điểm)

Số Lan nghĩ là: (0.5 điểm)

$77 - 32 + 23 = 68$ (2 điểm)

Đáp số: 68 (0.5 điểm)

Bài 4: (3 điểm)

Điền đúng mỗi ô trống được 0.75 điểm.

Bài 5: (4 điểm)

- Hình bên có 10 đoạn thẳng. (1.5 điểm)

- Kể tên đúng 10 đoạn thẳng được: $10 \times 0.25 = 2.5$ điểm.

(Đoạn thẳng: AB, BC, CD, AD, AO, OC, AC, BO, OD, BD)

Trường Tiểu học Quỳnh Thạch
THI HỌC SINH GIỎI TRƯỜNG □ NĂM HỌC : 2008 □ 2009
Môn: Toán lớp 1 □ Thời gian làm bài: 40 phút

Họ và tên: □□□□□□□□□□□□□□□□□□.Lớp □□□. Số báo danh: □□□□

Bài 1. Tính:

a) $15 + 34 - 37$

b) $38 - 13 + 24$

c) $6 - 7 +$

2

Bài 2. a) Viết số lớn nhất có 2 chữ số.....

b) Viết số lẻ lớn nhất có 2 chữ số.....

c) Tìm số có 2 chữ số mà tổng 2 chữ số là 1.....

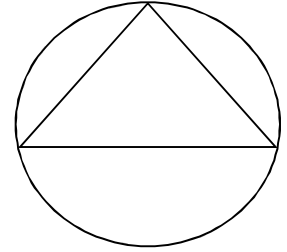
Bài 3: Nhà Lan có 36 con gà, trong đó có 21 con gà trống, đã bán đi 15 con. Hỏi:

- a) Nhà Lan còn lại mấy con gà?
- b) Đếm số gà còn lại thì chỉ còn 8 con gà trống. Hỏi nhà Lan còn lại mấy con gà trống?

Bài 4: Trên sân có một số gà và chó đang ăn, Lan đếm được tất cả 8 chân vừa gà vừa chó. Hỏi trên sân có mấy con gà, mấy con chó?

Bài 5: Vẽ 2 điểm:

- a) 1 điểm ở trong hình tròn và hình tam giác.
- b) 1 điểm ở ngoài tam giác nhưng trong hình tròn.



Tổng điểm: □□□□□.

Giáo viên chấm: □□□□□□

ĐỀ THI HỌC SINH GIỎI LỚP 1

NĂM HỌC : 2008 - 2009

MÔN : TOÁN

(Thời gian làm bài : 40 phút)

Bài 1- Tính: (4 điểm)

$$5 - 0 + 1 - 6 =$$

$$6 - 3 + 3 + 0 =$$

$$4 - 4 + 4 - 2 =$$

$$5 + 1 - 2 + 2 =$$

Bài 2 - Điền số vào ô trống cho thích hợp: (6 điểm)

$$5 - 2 = \square + 2$$

$$\square + 4 > 5$$

$$6 - \square + \square = 4 + 2$$

$$\square - 5 > 2$$

$$4 + \square - 5 = \square + 1$$

$$3 - \square < 2 + \square$$

Bài 3 - Hoà 6 tuổi, Bình ít hơn Hoà 2 tuổi Nga nhiều hơn Bình 1 tuổi. Hỏi bạn Nga bao nhiêu tuổi? (5 điểm)

.....
.....
.....
.....
.....
.....

Bài 4 - Cho bốn số 2, 4, 6, 0 . Hãy dùng dấu + , - , = để viết thành các phép tính đúng
(5 điểm)

.....
.....
.....
.....
.....
.....